

Oppgave O-Teori

Patruljenr.	
Patruljenavn	
Speidergruppe	
Poengsum	



Del A: orienteringskart



Spørsmål 1: Hvilke karttegn peker pilene på? (5 poeng)

A) _____

B) _____

C) _____

D) _____

E) _____

Del B: himmelretninger

Spørsmål 2: Hvilken himmelretning peker pilene på kartutsnittet under mot? (3 poeng)

F) _____

G) _____

H) _____



Spørsmål 3: I hvilken himmelretning går du om du skal følge en kurs på 90 grader? (2 poeng)

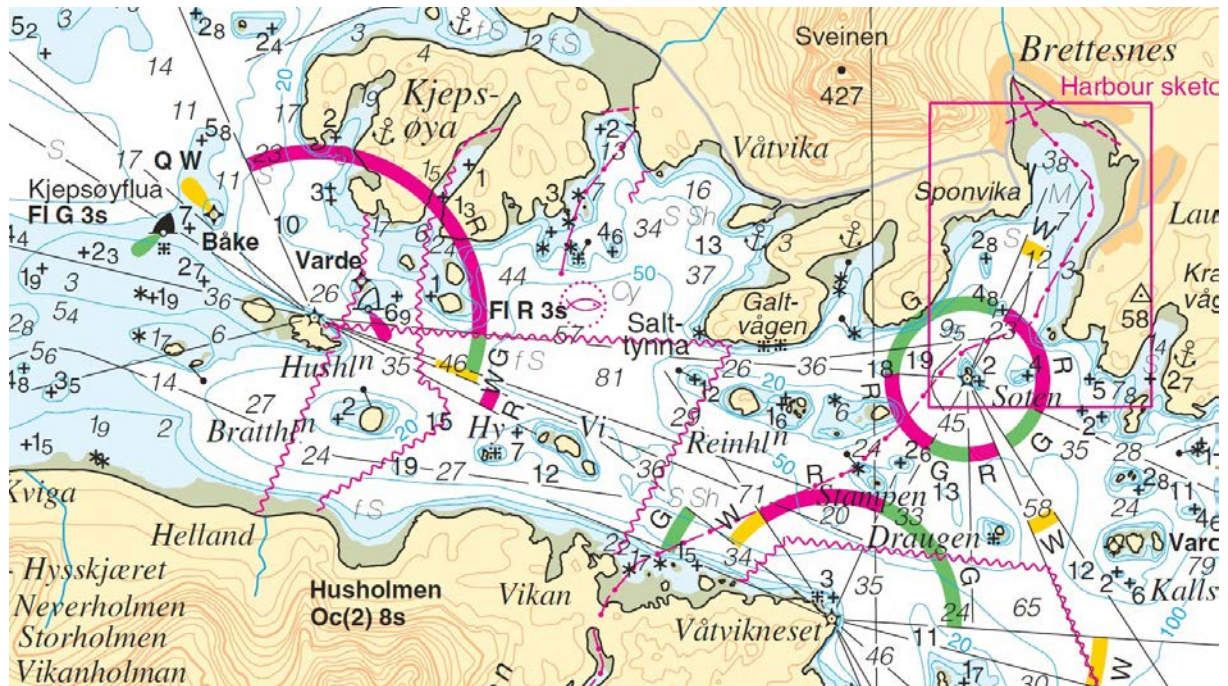
Del C: sjøkart

Spørsmål 4: Hva heter det der de ulike fyrlyktene står og hvilken farge ser du på de tre fyrlyktene når du står på Reinholmen? (6 poeng)

I) Fyr: _____ Farge: _____

J) Fyr: _____ Farge: _____

K) Fyr: _____ Farge: _____



Spørsmål 5: Hva er den rosa fisken med en stiplet sirkel rundt et symbol for? (2 poeng)

Del D: kartutsnitt

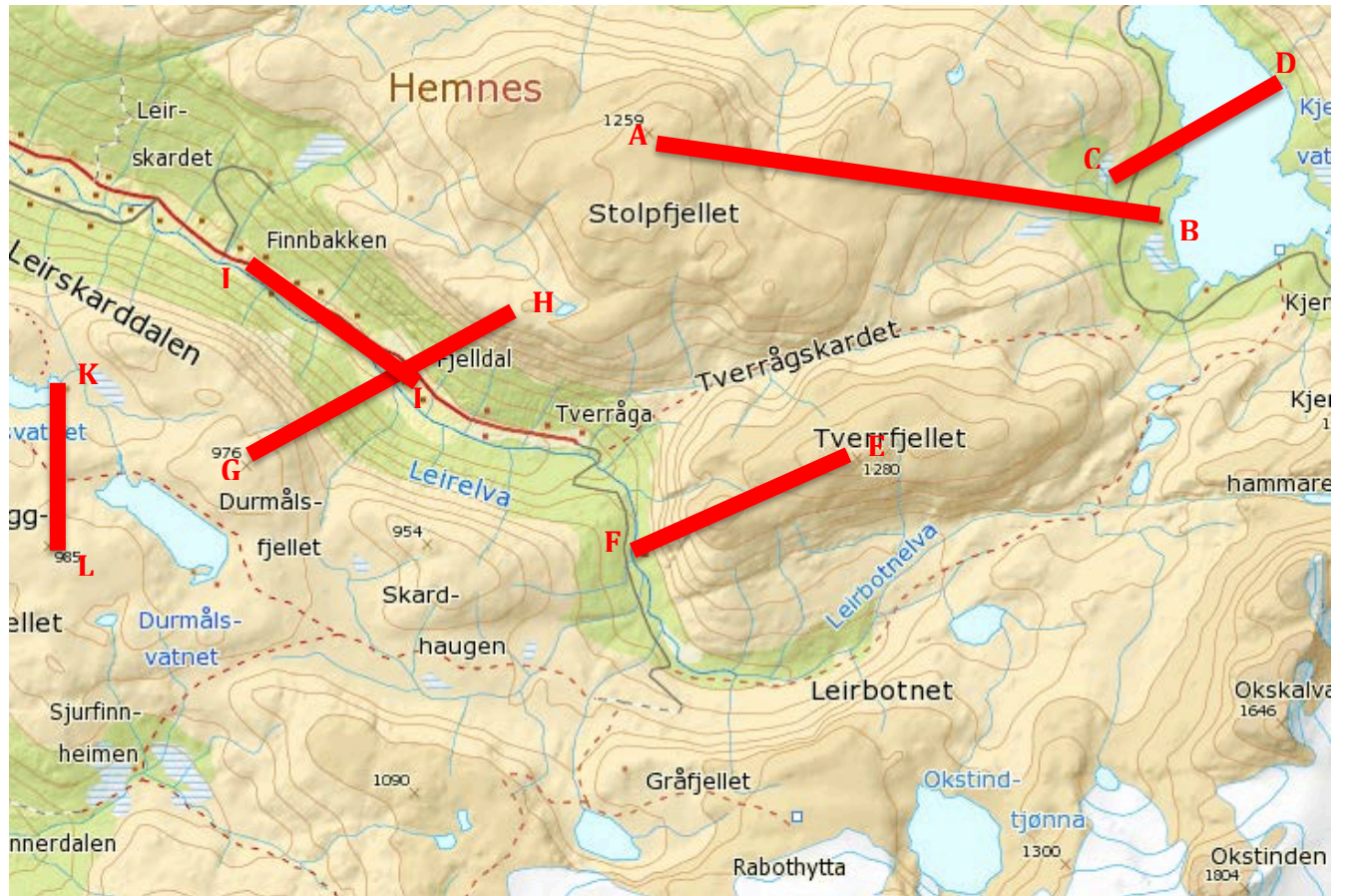


Spørsmål 6: Hvor langt er det fra Arefjellet til Nerlifjellet? Oppgi svaret i nærmeste hele kilometerantall. (2 poeng)

Spørsmål 7: Hva heter den høyeste toppen du finner på kartutsnittet og hvor høy er denne? (2 poeng)

Del E: terrengforståelse

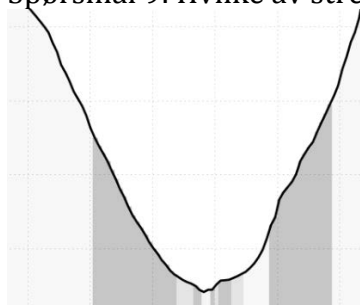
Under finner dere et kart med flere ulike strekk merket opp. De neste oppgavene går ut på å finne ut hvilket strekk som passer til høydeprofilene.



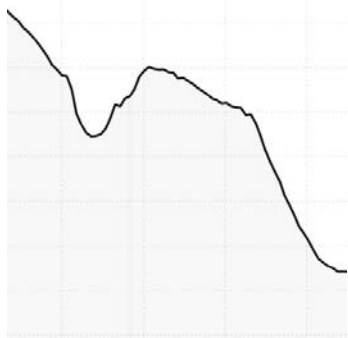
Spørsmål 8: Hvilke av strekkene over viser denne profilen? (1 poeng)



Spørsmål 9: Hvilke av strekkene over viser denne profilen? (1 poeng)



Spørsmål 10: Hvilke av strekkene over viser denne profilen? (1 poeng)



Spørsmål 11: Hvilke av strekkene over viser denne profilen? (1 poeng)

