


Teori



– Spørsmål og svarskjema del 1

Patrulje nr	
Patrulje navn	
Gruppe	


		A	B	C
1	Når var åpningen av friluftslivets år 2015?	1. januar	13. januar	21. januar
2	Når er det lov å tenne bål i skog og mark?	16.oktober – 15. mars	16.september – 14. april	15.september – 15.mai
3	Hvilket dyr lager disse sporene? 	Mår	Bjørn	Ulv
4	Om vinteren er det noen ganger stor rasfare, når trenger dere <u>ikke</u> være ekstra forsiktige?	Når det er store snømengder og har vært vekslende temperatur	Når det har vært veldig kaldt lenge	Når snøen er kram
5	På hvilke side av trær og steiner vokser oftest mose?	Sør	Nord	Vest
6	I hvilket stjernebilde finner du polarstjerna?	Storebjørn	Orion	Lille Bjørn
7	I hvilken himmelretning står polarstjernen?	Sør	Øst	Nord
8	Når kan du gå over innmark?	Når bakken er snødekket eller frosset i perioden fra og med 15.oktober til og med 29. april	Fra og med 15. oktober til og med 29.april	Hele året
9	Hvor bør tyngdepunktet i sekken ligge når du er på skitur?	Langt oppe	I midten	Langt nede
10	Hvilke av disse påstandene passer best for en dunsovepose?	Tørker raskt	Liten og lett når den er pakket	Holder på varmen selv om den er fuktig
11	Hvilke av disse stofftypene holder best på varmen selv om det blir fuktig?	Bomull	Ull	Fleece
Antall rett				

Teori

Teori – Spørsmål og svarskjema del 2




Patrulje nr	
-------------	--

		A	B	C
12	Hvilken tresort har dette bladet? 	Or	Selje	Eik
13	Når du er på tur en varm sommerdag holder du maten kaldest ved å?	Legge et par våte håndklær over maten	Sette maten i vinden	Legg ett teppe over maten
14	I Norge vokser flere planter som kan livnære seg av insekter (Kjøttetende planter). Hvilke av disse er eksempler på dette?	Tiriltunge og skogstorkenebb	Geiterams og løvemunn	Soldogg og tettegras
15	Hvem må betale fisketrygdavgift for å fiske i ferskvann?	Alle over 12 år	Alle over 16 år	Alle over 18 år
16	Hvor lenge kan du overnatte på samme sted i utmark (minst 150 meter fra bebodd hus eller hytte) uten å spørre grunneier om lov?	1 døgn	2 døgn	3 døgn
17	Hva er hovedtanken i allemannsretten	Alle har rett til å gå der de vil når de vil	Alle har rett til å slå opp telt der de vil	Alle har rett til fri ferdsel i utmark
18	I hvilket år ble frilufsloven vedtatt av stortinget?	1957	1965	1977
19	Hvilken av disse plantene er giftig å spise?	Liljekonvall	Brennnesle	Løvetann
20	Hvor mange m/s blåser vinden når det er stiv kuling?	10,8-13,8 m/s	13,9-17,1 m/s	17,2-20,7 m/s
21	Hvilken organisasjon leder Jens Stoltenberg?	NATO	FN	Europarådet
22	Hvem fikk pengene som ble samlet inn i TV-aksjonen i 2014?	Røde kors	Regnskogfondet	Kirkens Nødhjelp
23	Er det valg i år?	Ja, kommune- og fylkestingsvalg	Ja, storting- og sametingsvalg	Nei
Antall rett				

Teori – Spørsmål og svarskjema del 3

Patrulje nr	
-------------	--


		A	B	C
24	Hvilken organisasjon har denne logoen? 	Leger uten grenser	Amnesty International	Flyktninghjelpen
25	Hvor ble klimatoppmøte holdt i 2014?	Doha	Lima	Durban
26	Når feires samenes nasjonaldag?	29. januar	3. februar	6. februar
27	Hvem er kunnskapsminister i Norge?	Torbjørn Røe Isaksen	Bent Høie	Solveig Horne
28	Hvem er statsminister i Norge?	Siv Jensen	Erna Solberg	Jonas Gahr Støre
29	Hvor mange representanter er det på stortinget?	165	169	172
30	Hvor mange representanter er det på sametinget?	39	69	89
31	Når ble parlamentarismen formelt innført i Norge?	1884	1905	2007
32	Hvem ble i år ansatt som ny sjef i statoil?	Margareth Øvrum	Eldar Sætre	Helge Lund
33	Hva kalles en forsikring du har for å forsikre møbler og andre eiendeler du har i huset?	Kaskoforsikring	Ulykkesforsikring	Innboforsikring
34	Når ble FN opprettet?	1945	1947	1950
35	Hvem var den første generalsekretæren i FN?	Dag Hammarskjöld	Kofi Annan	Trygve Lie
36	Hvem vant Nobels fredspris i 2014?	Wangari Maathai	EU	Kailash Satyarthi og Malala Yousafzai
37	I 2014 var også to nordmenn på listen over nobelprisvinnere, i hvilken kategori vant de?	Kjemi	Fysiologi eller medisin	Litteratur
38	I hvilke to byer deles nobelprisene ut?	Oslo og Stockholm	Stockholm og København	København og Oslo
39	I hvilken by er FNs internasjonale domstol?	Brussel	New York	Haag
40	Hvor mange prosent av verdens befolkning mangler tilgang på rent drikkevann (2012)?	4	7	11
Antall rett				

Teori



Teori – Spørsmål og svarskjema del 4

Patrolje nr	
-------------	--


		A	B	C
41	Hvilken knute er dette? 	Flaggstikk	Pålestikk	Båtmannsknopp
42	Hvorfor håndhilser speidere med venstre hånd?	Når speiderbevegelsen oppsto i England hilste briter med venstre hånd	For å vise at vi er venner og ikke trenger å beskytte oss mot hverandre	Det ble innført som et hemmelig signal for å kjenne igjen andre speidere på tvers av landegrenser
43	Hvem arrangerer «World Scout Jamboree»?	WOSM	WAGGGS	WOSM og WAGGGS
44	Hvor mange etablerte verdenssenter har WAGGGS?	3	4	5
45	Når bruker vi vinkelsurring?	To raier som ikke er i 90 graders vinkel	To raier som er i 90 graders vinkel	Tre raier som skal lage en trefoting
46	Hvilken knute bruker du til å feste deg inn på tauet når du klatrer med klatresele?	Dobbel pålestikk	Flaggstikk	Dobbel åttetallsknute
47	I hvilket land har både WAGGGS og WOSM et verdenssenter?	Sveits	England	USA
48	Hva er en røykvender?	Noe speidere lurer andre speidere til å lete etter	Et redskap som snur røyken fra bål	Navn på fenomenet at røyken alltid følger etter deg når du flytter deg ved bålet
49	Hva kan du ikke bruke fettfella til på leir?	Kaste oppvaskvann	Kaste matrester	Spytte i når du pusser tennene
50	Hva sa Baden Powell at du kan legge igjen på leirplassen?	Ingenting og en takk til eieren	Utstyr som kan glede andre senere	Tørr ved til nestemann
51	Hvilke av disse er <u>ikke</u> en vanlig båltype?	Nying	Pagodebål	Fiskerbål
52	Hva er den 4. paragrafen i speiderloven?	En speider kjenner naturen og verner om den	En speider er en god venn	En speider er nøysom og prøver å klare seg selv
Antall rett				

Teori



Teori – Spørsmål og svarskjema del 5

Patrulje nr	
-------------	--



		A	B	C
53	Hvor tygg skal stålis være for at vi sier at det er trygg is?	10 cm	12 cm	15 cm
54	Hvilken brannskade er alvorligst?	1.grads forbrenning	Kjemisk forbrenning	3. grads forbrenning
55	Hva er årsaken til misvisning når vi tar ut en kompasskurs?	Det er en vinkelforskjell som gir avvik fra geografisk til magnetisk nordpol	Unøyaktigheter i avstander på kartet	Feil med kompasset
56	Hva er UTM systemet?	Systemet som definerer tidssoner	Patruljesystemet definert av WOSM	Et rutenett som benyttes på kart
57	Hvor høyt skal toppen av flagget henge når vi flagger på halv stang?	Halvveis opp på flaggstanga	En tredjedel fra toppen av flaggstanga	En fjerdedel fra toppen
58	Hvilke av disse er <u>ikke</u> en korrekt formulert paragraf i speiderloven?	En speider er ærlig og pålitelig	En speider gjør alltid sitt beste	En speider kjenner naturen og verner om den
59	Hva skal ringen som tommel og lillefinger danner i speiderhilsenen symbolisere?	Speidernes ansvar for det globale miljøet	Sammenhengen mellom speiderlov og speiderløfte	Ringene av alle jordens speidere som også har avlagt speiderløfte
60	På Baden Powells grav er det inngravert et sportegn: en sirkel med en prikk inni. Hva symboliserer dette? 	Jeg har gått hjem	Jeg har avsluttet oppgaven	Jeg har returnert
61	Når er St. georgsdag?	23. april	24. mai	25.august
62	Når er tenkedagen?	29.januar	22.februar	5.mars
63	Hvorfor markerer speidere i hele verden tenkedagen på den datoen de gjør?	Det er fødselsdagen til både Robert og Olave Baden Powell	Det er dagen Baden Powell døde	Det er datoen den første speiderleiren ble åpnet
Antall rett				

Teori




Teori – Spørsmål og svarskjema del 6

Patrolje nr	
-------------	--

		A	B	C
64	Hvilke dyr har vært her? 	Sau	Skogmus	Hare
65	Hva er forholdstallet mellom de røde hvite og blå delene av det norske flagget?	Vannrett: 6:1:2:1:12 Loddrett: 5:1:2:1:5	Vannrett: 5:1:2:1:10 Loddrett: 5:1:2:1:5	Vannrett: 6:1:2:1:12 Loddrett: 6:1:2:1:6
66	Hvor stort skal ett flagg som heises på stang være?	Lengden av flagget skal være 1/4 av høyden på stanga	Lengden av flagget skal være 1/3 av høyden av stanga	Det finnes ikke noen krav
67	Hva er morsetegnet for SOS?	.../---/...	---/.../---	---/.../---
68	Hvilke av disse er <u>ikke</u> en plass du må være ekstra oppmerksom på utrygg is?	Ved inn- og utløp	Langs land	Hvor vannet er dypest
69	Hvilke av disse er <u>ikke</u> en av fjellvettreglene?	Ha alltid med mobiltelefon	Vend i tide. Det er ingen skam å snu.	Legg ikke ut på langtur uten trening
70	Hvilken fisk er dette? 	Lyr	Ørret	Hyse
71	Hvilket år ble Norges KFUK-speidere stiftet som første jentespeiderforbund i Norge?	1916	1918	1920
72	I hvilket land er Baden Powell gravlagt?	Kenya	England	India
73	Hvor arrangerte Baden Powell verdens første speiderleir?	Brownsea Island	Gilwell Park	Isle of Man
74	Når ble Norsk speiderguttforbund stiftet?	1907	1911	1914
75	Hva het boka som Baden Powell skrev om speiding?	The scouting handbook	How to be a scout	Scouting for boys
76	Hva er det kjemiske symbolet til jern?	Ir	Fe	Pb
77	Hvilken nasjonalpark var den første som ble opprettet i Norge?	Rondane	Dovrefjell	Jotunheimen
78	Lav består av to typer organismer, hvilke?	Sopp og alge	Sopp og bakterie	Bakterie og alge
79	Hvor mange bøker er det i det nye testamentet?	24	26	27
Antall rett				

Teori – Spørsmål og svarskjema del 7

Patrulje nr	
-------------	--

		A	B	C
80	Hvilken by er hovedstaden i Canada?	Ottawa	Toronto	Montreal
81	Hvor lang tid tar det før en vanlig plastflaske brytes ned i miljøet?	50 år	175 år	450 år
82	Hva er sannsynligheten for å trille 6 to ganger etter hverandre med en terning?	2/6	1/12	1/36
83	Hvilken planet er den 7. fra sola i solsystemet vårt?	Uranus	Neptun	Saturn
84	Hvor i bibelen står den lille bibel? "For så høyt har Gud elsket verden at han gav sin sønn den enbårne, for at hver den som tror på ham, ikke skal gå fortapt, men ha evig liv."	Matt. 4.18	Joh. 3.16	Lukas 2.19
85	Hvor mange egg har du når du har et snes med egg?	10	12	20
86	Hva betyr det at en væske er flyktig?	Den fordamper lett	Den antenner lett	Den er fargeløs
87	Hvor ble VM på ski arrangert i år?	Lillehammer	Davos	Falun
88	Hvilket slag var avgjørende for at Norge ble samlet til et rike?	Slaget på Stiklestad	Slaget i Hafrsfjord	Slaget i Soknasund
89	Hvilke av disse landene sender bemannede fartøy ut i verdensrommet?	USA	Russland	Japan
90	Hvilke bilmerke har denne logoen? 	Toyota	Skoda	Mazda
91	Hva het stormen som i januar rammet Sør-Norge?	Nina	Ole	Pia
92	Hvem oppdaget det radioaktive grunnstoffet Radium?	Marie og Pierre Curie	Niels Bohr	Dmitrij Mendelejev
93	I hvilken religion står fem søyler sentralt?	Jødedommen	Islam	Buddhismen
94	Hvilken kjent 1800-talls forfatter som skrev på landsmål kommer i fra Jæren?	Arne Garborg	Alexander Kielland	Henrik Ibsen
Antall rett				

Teori



Teori – Spørsmål og svarskjema del 8

Patrolje nr	
-------------	--

		A	B	C
95	Hvor mange arter mygg finnes det i Norge?	10 arter	Litt over 500 arter	Litt over 2000 arter
96	Min alder er tre ganger hva den vil være tre år fra nå, minus tre ganger hva min alder var for tre år siden. Hvor gammel er jeg?	12	16	18
97	Et av symbolene som brukes i kirken er duen, hva symboliserer det?	Den Hellige Ånd	Vennskap	Respekt for naturen
98	Hvilke land ligger lengst øst i Sør-Amerika?	Argentina	Brasil	Peru
99	Hvem har malt Pikene på Broen?	Weidemann	Munch	Vigeland
100	I hvilken religion står teksten Bhagavadgita sentralt?	Buddhismen	Sikhismen	Hinduismen
Antall rett				